

il **nuovo** concorso
a cattedra

TEST COMMENTATI

Geografia

Ampia raccolta di **quesiti** a **risposta multipla**

Classe di concorso:

A21 Geografia

a cura di **Enrico Millotti**



Comprende **software**
per esercitazioni online

Accedi ai servizi riservati




COLLEGATI AL SITO
EDISES.IT

ACCEDI AL
MATERIALE DIDATTICO

SEGUI LE
ISTRUZIONI

Utilizza il codice personale contenuto nel riquadro per registrarti al sito **edises.it** e accedere a **servizi e contenuti riservati**.

Scopri il tuo **codice personale** grattando delicatamente la superficie



Il volume NON può essere venduto, né restituito, se il codice personale risulta visibile.

L'**accesso ai servizi riservati** ha la durata di **un anno** dall'attivazione del codice e viene garantito esclusivamente sulle edizioni in corso.

Per attivare i **servizi riservati**, collegati al sito **edises.it** e segui queste semplici istruzioni

Se sei registrato al sito

- clicca su *Accedi al materiale didattico*
- inserisci email e password
- inserisci le ultime 4 cifre del codice ISBN, riportato in basso a destra sul retro di copertina
- inserisci il tuo **codice personale** per essere reindirizzato automaticamente all'area riservata

Se non sei già registrato al sito

- clicca su *Accedi al materiale didattico*
- registrati al sito o autenticati tramite facebook
- attendi l'email di conferma per perfezionare la registrazione
- torna sul sito **edises.it** e segui la procedura già descritta per gli utenti registrati

il **nuovo** concorso
a cattedra

TEST COMMENTATI

Geografia

Ampia raccolta di **quesiti** a **risposta multipla**

CC E3 – Geografia – Esercizi commentati – I ed.
Copyright © 2020, EdiSES S.r.l. – Napoli

9 8 7 6 5 4 3 2 1 0
2024 2023 2022 2021 2020

Le cifre sulla destra indicano il numero e l'anno dell'ultima ristampa effettuata

*A norma di legge è vietata la riproduzione, anche parziale,
del presente volume o di parte di esso con qualsiasi mezzo.*

L'Editore

A cura di: Enrico Millotti

Progetto grafico: ProMedia Studio di A. Leano – Napoli

Grafica di copertina e fotocomposizione:  curvilinee

Stampato presso Vulcanica s.r.l. – Nola (NA)

Per conto della EdiSES – Piazza Dante, 89 – Napoli

ISBN 978 88 9362 455 8

www.edises.it
info@edises.it

I curatori, l'editore e tutti coloro in qualche modo coinvolti nella preparazione o pubblicazione di quest'opera hanno posto il massimo impegno per garantire che le informazioni ivi contenute siano corrette, compatibilmente con le conoscenze disponibili al momento della stampa; essi, tuttavia, non possono essere ritenuti responsabili dei risultati dell'utilizzo di tali informazioni e restano a disposizione per integrare la citazione delle fonti, qualora incompleta o imprecisa.

Realizzare un libro è un'operazione complessa e nonostante la cura e l'attenzione poste dagli autori e da tutti gli addetti coinvolti nella lavorazione dei testi, l'esperienza ci insegna che è praticamente impossibile pubblicare un volume privo di imprecisioni. Saremo grati ai lettori che vorranno inviarci le loro segnalazioni e/o suggerimenti migliorativi all'indirizzo redazione@edises.it

Prefazione

Il volume si pone come strumento di supporto per quanti si apprestano alla preparazione del concorso a cattedra per la classe il cui programma d'esame prevede l'insegnamento della Geografia nella scuola secondaria.

Il presente volume contiene una **raccolta di quesiti** a risposta multipla suddivisi per **area disciplinare** e corredati da **soluzioni commentate** per favorire il ripasso delle nozioni fondamentali e fissare i concetti chiave in vista della prova concorsuale. Rappresenta dunque uno strumento di **ripetizione** e **verifica** delle molteplici competenze professionali richieste per la classe di concorso, secondo la struttura dei programmi d'esame definiti dal Ministero dell'Istruzione.

Il testo è articolato in parti. La **Prima Parte** è dedicata alle **competenze disciplinari** proprie della classe di concorso; contiene dunque quesiti relativi alle materie di insegnamento e ai programmi d'esame ministeriale.

La **Seconda Parte, Esercitazioni**, comprende una serie di **verifiche trasversali** per una esercitazione completa sulla prova d'esame.


Il testo è completato da estensioni online tra cui un **software di simulazione** accessibile dall'area riservata seguendo la procedura indicata nel frontespizio del volume, per effettuare infinite esercitazioni sugli argomenti oggetto delle prove d'esame.

Ulteriori **materiali didattici** e **approfondimenti** sono disponibili nell'area riservata a cui si accede mediante la registrazione al sito *edises.it* secondo la procedura indicata nel frontespizio del volume.

Eventuali errata-corrigé saranno pubblicati sul sito *edises.it*, nella scheda "Aggiornamenti" della pagina dedicata al volume.

Altri aggiornamenti sulle procedure concorsuali saranno disponibili sui nostri profili social.

Facebook.com/ilconcorsoacattedra

Clicca su  (**Facebook**) per ricevere gli aggiornamenti
www.concorsoacattedra.it

Indice

Parte Prima Competenze disciplinari

Capitolo 1 – Geografia fisica	3
Risposte commentate.....	19
 Capitolo 2 – Biogeografia	
Lineamenti di fitogeografia e zoogeografia	33
Equilibrio ecologico come base della vita	35
Difesa attiva e passiva dell’ambiente	37
Gli oceani e le loro caratteristiche fondamentali	39
Problemi geografici dell’alimentazione nel mondo.....	41
Risposte commentate.....	44
 Capitolo 3 – Geografia matematica	
Forma e dimensioni della Terra	67
Problemi di cartografia, topografia, aerofotogrammetria.....	69
Lettura e interpretazione delle carte geografiche e tematiche	71
Foto da satellite, prodotti del telerilevamento.....	74
Misura del tempo	76
Risposte commentate.....	79
 Capitolo 4 – Geografia antropica	
La vicenda demografica umana dalle origini ad oggi	91
Principali tipi di insediamento umano.....	93
Gli spostamenti di popolazione	94
Gli Stati come individui geografici	95
Popolazioni mono e pluriethniche, con relativi problemi	96
ONU e principali organizzazioni internazionali.....	97
Esplorazioni e scoperte geografiche	99
Risposte commentate.....	101

Capitolo 5 – Geografia economica

Basi geografiche dell'utilizzo del suolo	121
Gli allevamenti nel mondo e contributo all'alimentazione e all'industria	121
I grandi distretti della pesca e la produzione ittica	122
Le grandi regioni forestali e il loro uso economico	122
Le principali aree minerarie	123
I maggiori distretti di idrocarburi solidi, liquidi e gassosi.....	123
Aree di produzione e di rifornimento attuali e nelle prospettive future	124
Nuove fonti di energia.....	124
La distribuzione della produzione e dei consumi di energia nel mondo.....	125
Le grandi regioni industriali.....	125
Basi geografiche e valore delle grandi reti di comunicazione	126
Le grandi vie del commercio oceanico e i loro passaggi obbligati	127
Le grandi vie di navigazione interna e la loro rilevanza strategica.....	127
Il progresso tecnologico e la trasmissione dell'informazione	128
Basi geografiche del turismo e suoi fattori strumentali.....	128
I maggiori centri turistici mondiali e la loro qualificazione	129
I grandi problemi sociali, politici ed economici nei PVS.....	129
La decolonizzazione e i problemi degli Stati di recente indipendenza	130
Modello di sviluppo dominante e suoi principali esponenti	130
I Paesi di più dinamico sviluppo attuale in Asia, Africa e America latina	132
Risposte commentate.....	133

Parte Seconda

Esercitazioni

Esercitazione 1	159
Risposte corrette	168
Esercitazione 2	169
Risposte corrette	177
Esercitazione 3	178
Risposte corrette	185
Esercitazione 4	186
Risposte commentate.....	196
Esercitazione 5	209
Risposte commentate.....	218

Parte Prima

Competenze disciplinari

SOMMARIO

Capitolo 1	Geografia fisica
Capitolo 2	Biogeografia
Capitolo 3	Geografia matematica
Capitolo 4	Geografia antropica
Capitolo 5	Geografia economica

Capitolo 1

Geografia fisica

- 1) Quale delle seguenti non è una regione della Spagna?**
 - A. Algarve
 - B. Galizia
 - C. Estremadura
 - D. Valencia

- 2) Quale è la più grande isola del globo?**
 - A. Borneo
 - B. Groenlandia
 - C. Cuba
 - D. Madagascar

- 3) Quali Stati attraversa il Nilo?**
 - A. Egitto, Sudan, Etiopia, Somalia
 - B. Egitto, Sudan, Congo, Etiopia
 - C. Egitto, Sudan, Etiopia, Uganda
 - D. Egitto, Sudan, Uganda, Burundi

- 4) Il territorio danese è pianeggiante per il:**
 - A. 50%
 - B. 20%
 - C. 100%
 - D. 65%

- 5) A quale Paese riconduciamo l'espressione «Tre Gole»?**
 - A. India
 - B. Brasile
 - C. Birmania
 - D. Cina

- 6) Il fiume più lungo d'Europa è:**
 - A. il Po
 - B. il Danubio
 - C. il Reno
 - D. il Volga



7) La Carpazia, regione dell'Europa centrale, si estende con limiti incerti tra vari Paesi, tra cui:

- A. Ungheria e Ucraina
- B. Repubblica Slovacca e Lituania
- C. Ungheria e Polonia
- D. Romania e Austria

8) Le isole del Canale o Normanne:

- A. sono una colonia britannica costituita nel novembre del 1965
- B. fanno parte del Regno Unito, ma hanno istituzioni legislative proprie
- C. costituiscono protettorato francese dal 1943
- D. non fanno parte del Regno Unito, ma dipendono direttamente dalla Corona e hanno istituzioni legislative proprie

9) Bielsko-Biala, Bydgoszcz e Legnica sono città:

- A. dell'Austria
- B. della Germania
- C. dell'Ungheria
- D. della Polonia

10) Escludere dal seguente elenco il luogo «anomalo» per posizione geografica rispetto agli altri:

- A. Caserta
- B. Latina
- C. Salerno
- D. Campobasso

11) La regione degli Stati Baltici, che si estende nell'Europa orientale, comprende:

- A. Ucraina, Romania, Slovacchia
- B. Russia, Estonia, Bielorussia
- C. Polonia, Repubblica Ceca, Romania
- D. Estonia, Lettonia, Lituania

12) Le Azzorre sono un arcipelago di origine vulcanica formato da nove isole principali e numerosi isolotti, situato nell'Oceano Atlantico:

- A. ed appartenente alla Francia
- B. a circa 1400 km dalla Gran Bretagna, da cui politicamente dipende
- C. e protettorato spagnolo dal 1947
- D. a circa 1400 km dal Portogallo, da cui politicamente dipende

- 13) Praga, Ostrava, Brno e Liberec sono città della:**
- A. Repubblica Ceca
 - B. Bulgaria
 - C. Lettonia
 - D. Romania
- 14) Lo Stato himalayano chiuso fra India e Cina con capitale Katmandu è:**
- A. Nepal
 - B. Tibet
 - C. Bhutan
 - D. Bangladesh
- 15) Quale mare è contornato dai seguenti elementi orografici e corografici: Penisola Balcanica, Monti del Ponto, Caucaso, Penisola di Crimea?**
- A. Mar d'Azov
 - B. Mar Egeo
 - C. Mar Caspio
 - D. Mar Nero
- 16) Quale fra le seguenti non è una città degli Stati Uniti d'America?**
- A. Augusta
 - B. Annapolis
 - C. Monterrey
 - D. Saint Paul
- 17) Quali Stati si affacciano sul Mar Caspio?**
- A. Russia, Armenia, Iran, Kazakistan, Turkmenistan
 - B. Russia, Ucraina, Iran, Kazakistan, Turkmenistan
 - C. Russia, Azerbaigian, Iran, Kazakistan, Turkmenistan
 - D. Russia, Azerbaigian, Turchia, Kazakistan, Turkmenistan
- 18) Quali Paesi comprende l'area del Maghreb?**
- A. Senegal, Mauritania e Mali
 - B. Libia ed Egitto
 - C. Marocco, Algeria e Tunisia
 - D. Siria e Giordania



19) È stata una colonia spagnola, poi statunitense, costituita da un vasto arcipelago situato nel Sud-Est asiatico, con popolazione a maggioranza cattolica. È indipendente dal 1956. Di quale Stato si tratta?

- A. Filippine
- B. Indonesia
- C. Malesia
- D. Taiwan

20) Il Regno Unito di Gran Bretagna comprende:

- A. Inghilterra, Scozia, Galles, Ulster, isole Shetland, Orcadi ed Ebridi
- B. Inghilterra, Scozia, Galles, Ulster
- C. Inghilterra, Scozia, Galles, isole Shetland
- D. Inghilterra, Scozia, Galles, Ulster, isole Shetland

21) La capitale della Bielorussia è:

- A. Kiev
- B. Minsk
- C. Vilnius
- D. Riga

22) Il canale di Panama è stato realizzato nel:

- A. 1889
- B. 1897
- C. 1904
- D. 1914

23) La capitale della Bolivia è:

- A. Quito
- B. La Paz
- C. Lima
- D. Maracaibo

24) Tegucigalpa è capitale di quale paese?

- A. Cuba
- B. Nicaragua
- C. Haiti
- D. Honduras

25) Quale dei seguenti è uno Stato federale?

- A. Spagna

- B. Egitto
- C. Cina
- D. India

26) La linea dell'equatore attraversa:

- A. Camerun, Congo, Zaire, Uganda, Kenya, Etiopia
- B. Gabon, Zaire, Congo, Uganda, Kenya, Somalia
- C. Gabon, Congo, Sudan, Kenya, Etiopia
- D. Gabon, Congo, Sudan, Kenya, Somalia

27) L'Ulster identifica:

- A. una regione dell'Irlanda
- B. la Repubblica d'Irlanda
- C. la Gran Bretagna
- D. l'isola irlandese

28) In Macedonia vive una consistente minoranza:

- A. bulgara
- B. serba
- C. albanese
- D. turca

29) Appartengono al Nord del mondo:

- A. Canada e USA
- B. Algeria e Nuova Zelanda
- C. Nuova Zelanda e Sudafrica
- D. Sudafrica e Zambia

30) Trovare il gruppo anomalo tra i seguenti raggruppamenti di lingue europee:

- A. italiano – spagnolo – portoghese
- B. tedesco – inglese – fiammingo
- C. vallone – danese – fiammingo
- D. ungherese – estone – finlandese

31) Con l'espressione «squilibrio territoriale» si definisce:

- A. il contrasto nella definizione dei confini politici tra Stati
- B. l'instabilità geologica di alcune zone del pianeta
- C. il divario socio-economico tra le diverse aree geografiche
- D. la rottura degli equilibri ecosistemici



32) Il Tigri e l'Eufrate hanno in comune:

- A. la sorgente
- B. il passaggio per Baghdad
- C. l'attraversamento del territorio iraniano
- D. la foce

33) Quale gruppo elenca soltanto città capitali?

- A. Ottawa, Sydney, Brasilia, Islamabad
- B. Ottawa, Canberra, Brasilia, Islamabad
- C. Toronto, Canberra, Brasilia, Karachi
- D. Ottawa, Sydney, Rio de Janeiro, Islamabad

34) Quale tra le seguenti regioni non fu mai sottoposta al dominio arabo?

- A. Sardegna
- B. Sicilia
- C. Cipro
- D. Creta

35) Il canale di Suez è stato nazionalizzato dall'Egitto nel:

- A. 1956
- B. 1918
- C. 1945
- D. 1952

36) L'Appennino sannita appartiene prevalentemente:

- A. all'Abruzzo
- B. al Molise
- C. alla Puglia
- D. al Lazio

37) Si chiama Maremma:

- A. la subregione centro-orientale della Toscana
- B. la subregione meridionale della Toscana
- C. la subregione settentrionale della Toscana
- D. un territorio distribuito tra Toscana, Umbria e Lazio

38) Il Parco Nazionale del Gran Paradiso si estende tra:

- A. Piemonte e Valle d'Aosta
- B. Lombardia e Piemonte

- C. Abruzzo e Molise
- D. Alto Adige e Veneto

39) La capitale della Slovacchia è:

- A. Bratislava
- B. Cracovia
- C. Praga
- D. Brno

40) La vetta più alta dell'Africa è:

- A. il Tahat
- B. il Camerun
- C. il Ruwenzori
- D. il Kilimangiaro

41) Il Casentino si trova in:

- A. Toscana
- B. Abruzzo
- C. Lazio
- D. Lombardia

42) Campione d'Italia si trova sulle rive del lago:

- A. di Garda
- B. di Como
- C. Maggiore
- D. di Lugano

43) Fa parte del Parco dell'Arcipelago Toscano l'isola:

- A. di Ventotene
- B. di Alicudi
- C. della Maddalena
- D. di Giannutri

44) Uppsala è una città che appartiene:

- A. alla Finlandia
- B. alla Svezia
- C. alla Norvegia
- D. alla Danimarca

45) Il Rio delle Amazzoni è, per lunghezza:

- A. il primo fiume del mondo



- B. il secondo fiume del mondo
- C. il terzo fiume del mondo
- D. il quarto fiume del mondo

46) Le cime più elevate del Nord Africa si trovano in:

- A. Egitto
- B. Tunisia
- C. Algeria
- D. Marocco

47) Il Sahara Occidentale, annesso dal Marocco nel 1976, è colonia:

- A. inglese
- B. italiana
- C. spagnola
- D. tedesca

48) Con il nome di Erebus (Antartide) si indica:

- A. una montagna di origine vulcanica
- B. una penisola protesa verso l'America meridionale
- C. un altopiano ricordato come ex possedimento
- D. una baia sul Mare di Weddel

49) La Transcaucasia, regione dell'Asia Centrale, è amministrativamente suddivisa nelle repubbliche:

- A. dell'Azerbaigian, Kirghizistan e Georgia
- B. del Turkmenistan, Uzbekistan e Kirghizistan
- C. dell'Azerbaigian, Georgia e Armenia
- D. dell'Azerbaigian, Georgia e Turkmenistan

50) Procedendo, in senso SE-NO, dalla Colombia verso i Paesi dell'America Centrale, si incontrano nell'ordine i seguenti Paesi:

- A. Belize - Panama - El Salvador
- B. El Salvador - Panama - Messico
- C. Panama - Costa Rica - Nicaragua
- D. Panama - Honduras - Guatemala

51) Il Canale di Kiel collega:

- A. il Mar di Norvegia con il Mare di Barents
- B. il Golfo di Finlandia con il Lago Ladoga
- C. il Mar Bianco con il Mare di Barents

D. il Mar Baltico con il Mare del Nord

52) Il territorio della provincia di Mantova è solcato:

- A. dal Po, dal Ticino e dall'Adige
- B. dall'Adige, dal Mincio e dall'Adda
- C. dal Po, dal Mincio e dall'Oglio
- D. dal Po e dall'Adige

53) Il Canale di Corinto fu aperto:

- A. nel 1974
- B. nel 1893
- C. prima del sec. XVIII
- D. nel IV sec. d.C.

54) La diga di Kariba si trova lungo il corso del fiume:

- A. Limpopo
- B. Orange
- C. Congo
- D. Zambesi

55) Qual è la capitale dello Yemen?

- A. Amman
- B. Damasco
- C. Riyadh
- D. San'a

56) Il BENELUX è:

- A. l'organismo speciale dell'ONU deputato al controllo dell'energia
- B. l'organizzazione regionale politica ed economica che consocia fra loro i paesi dell'est europeo
- C. l'organismo speciale dell'ONU deputato al controllo del Fondo Monetario Internazionale
- D. una sigla per riferirsi ai tre paesi del Belgio, dei Paesi Bassi e del Lussemburgo

57) Quali fra i seguenti territori sono definibili come sub-continenti?

- A. Antartide e Artide
- B. Mediterraneo e Penisola Arabica
- C. Penisola Indiana e Sud America
- D. Antartide e Australia



il **nuovo** concorso a cattedra

TEST COMMENTATI

Gli eserciziari della collana si pongono come utili strumenti per il ripasso e l'autovalutazione in vista della preparazione alle prove di concorso ordinario e straordinario per l'insegnamento.

Utile strumento di ripasso e verifica in vista delle prove concorsuali, il volume è costituito da un'**ampia raccolta di quiz** a risposta multipla suddivisi per **area disciplinare** e corredati da un sintetico ma puntuale richiamo teorico.

Le aree trattate sono relative alle principali **conoscenze disciplinari** necessarie per l'insegnamento delle materie per le quali si concorre.

Il **commento** fornito per ciascun quesito favorisce un rapido riepilogo delle **nozioni fondamentali** e consente di fissare i **concetti chiave**.

Il volume comprende inoltre una serie di **esercitazioni finali** per una verifica trasversale delle conoscenze su tutti gli argomenti trattati.



Il testo è completato da un **software di simulazione**, accessibile dall'area riservata mediante il codice contenuto all'interno del volume.


I servizi web sono disponibili per 12 mesi dall'attivazione del codice.

PER COMPLETARE LA PREPARAZIONE:

CC 1/IE • **TEST COMMENTATI AVVERTENZE GENERALI**

Per info e aggiornamenti iscriviti a infoconcorsi.edises.it 

e seguici su facebook.com/infoconcorsi 

Per approfondimenti visita blog.edises.it 



edises.it/ammissioni
infoconcorsi.edises.it
info@edises.it



€ 22,00

ISBN 978-88-9362-455-8



9 788893 624558